

ШКОЛЬНЫЙ ЭТАП ВСЕРОССИЙСКОЙ ОЛИМПИАДЫ ШКОЛЬНИКОВ
2024/2025 УЧЕБНОГО ГОДА
ПО ОСНОВАМ БЕЗОПАСНОСТИ И ЗАЩИТЫ РОДИНЫ

665.

Код/Шифр участника

--	--	--	--	--

Фамилия Табунчик

Имя Вера

Отчество Ильинична

Дата рождения: «24» сентября 20 12 г.

Класс 6 Б

МБОУ СОШ № _____

Личная подпись участника _____


5-6 КЛАССЫ

Код/Шифр участника

--	--	--	--	--

МОДУЛЬ 1.

Задание 1. Знание правил дорожного движения всеми участниками дорожного движения позволяет предотвратить дорожно-транспортные происшествия. При помощи стрелок установите соответствие между сигналами велосипедиста и их названиями.

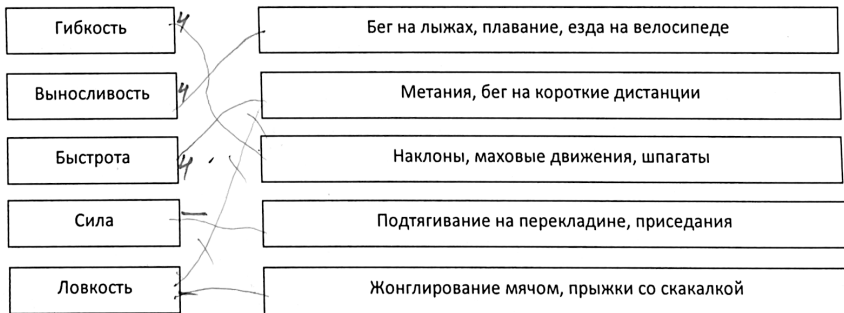


4	—	4
Поворот налево	Торможение	Поворот направо

Оценочные баллы: за каждый правильный ответ – 4 балла, максимальный – 20 баллов;
фактический – 8 баллов

Подписи членов жюри _____

Задание 2. Укажите стрелками, с помощью каких упражнений развиваются перечисленные физические качества:



Оценочные баллы: за каждый правильный ответ – 4 балла, максимальный – 20 баллов;
фактический – 12 баллов

Подписи членов жюри _____

Задание 3. Вставьте в текст «Правила работы за компьютером для школьника 11-13 лет» пропущенные определения:

В комнате, в которой школьник работает за компьютером должно быть Хорошее освещение (А).

В соответствии с установленными нормами непрерывная продолжительность работы не должна превышать 20 (Б) минут.

После каждого продолжительного занятия на компьютере рекомендуется выполнять Гимнастику для глаз (В).

Расположите клавиатуру и монитор прямо перед собой. При работе на клавиатуре установите ее так, чтобы не надо было далеко тянуться, а расстояние от глаз до монитора компьютера не превышало 60 сантиметров (Г).

- 1) Хорошее освещение; 2) 40 сантиметров; 3) Гимнастика для рук; 4) 20 минут;
5) Полумное освещение; 6) 60 сантиметров; 7) Гимнастика для глаз; 8) 30 минут;

А	Б	В	Г
1 5	4 5	3 7, 5	5 6

Оценочные баллы: за каждый правильный ответ – 5 баллов, максимальный – 20 баллов;
фактический – 20 баллов

Подписи членов жюри _____

МОДУЛЬ 2.

ТЕСТОВЫЕ ЗАДАНИЯ

В каждом задании один правильный ответ!

265.

Правильный ответ – 2 балла.

1. Что необходимо использовать для тушения небольших очагов пожара в квартире?

- а) любые имеющиеся в квартире жидкости.
б) старые газеты. 2
в) веник.
г) одеяло.

2. Что относится к наиболее вероятной причине возникновения пожара в квартире?

- а) игры детей со спичками, петардами, бенгальским огнем, закигалками.
б) зажженные электрические лампочки, фонари. 2
в) постоянно работающий холодильник.
г) отсутствие в квартире огнетушителя.

3. Находясь в кабине движущегося лифта, вы обнаружили признаки возгорания. Как вы поступите?

- а) немедленно нажмете кнопку «Стоп» 2
б) поднимете крик, шум, начнете звать на помощь
в) немедленно нажмете кнопку «Вызов» и сообщите об этом диспетчеру, выйдете из лифта на ближайшем этаже
г) сядете на пол кабины лифта, где меньше дыма

4. Чем нельзя тушить загоревшийся компьютер?

- а) землей
- б) водой
- в) песком
- г) пеной из огнетушителя

5. В каком случае можно переходить дорогу, не оборудованную пешеходным переходом?

- а) только при достаточной видимости в обе стороны и отсутствии в зоне видимости пешеходного перехода или перекрестка
- б) только при отсутствии ограждений и движущегося транспорта
- в) дорогу нельзя переходить вне пешеходного перехода
- г) когда нет близко идущего транспортного средства

6. По какой стороне улицы вы будете двигаться, ведя неисправный велосипед, если нет тротуара?

- а) против движения транспорта
- б) в попутном направлении движения транспорта по правой стороне дороги
- в) по левой стороне проезжей части
- г) нет никакой разницы

7. Вы вышли из автобуса. Нужно перейти на противоположную сторону улицы. Как правильно это сделать?

- а) обойти стоящий транспорт спереди
- б) обойти стоящий транспорт сзади
- в) подождать, когда транспорт отъедет от остановки, затем перейти дорогу
- г) дойти до ближайшего пешеходного перехода и перейти дорогу

8. Вы находитесь дома и слышите, что дверь вашей квартиры открывают ключом или взламывают. Ваши действия:

- а) попытаетесь бежать из дома через балкон к соседям
- б) спросите, кто там за дверью и откроете её
- в) заблокируете двери любыми средствами и вызовете полицию
- г) поднимите тревогу криками и шумом

9. Вы пришли домой и заметили, что в квартире кто-то побывал (открыта входная дверь, выбито окно, в квартире беспорядок и тому подобное). Как вы поступите?

- а) войдете в квартиру, проверите наличие вещей, и если все нормально, то займетесь личными делами
- б) войдете в квартиру, осмотрите её и установите, какие вещи исчезли, о чем сообщите в полицию
- в) войдете в квартиру и сразу по телефону вызовете полицию
- г) не будете входить в квартиру и вызовете полицию по телефону

10. Что нельзя делать, если вы оказались заложником террористов в транспорте?

- а) требовать немедленного освобождения, кричать
- б) не выделяться своим поведением
- в) беспрекословно выполнять требования террористов
- г) при штурме лечь на пол

11. Какой способ определения направления движения, является наиболее достоверным?

- а) с помощью солнца и часов
- б) по компасу
- в) по квартальным столбам
- г) по стволам деревьев и мху

12. Север на карте всегда находится...

- а) вверх
- б) слева
- в) справа
- г) вниз

13. Где наиболее безопасное место во время грозы?

- а) у железнодорожного полотна
- б) у водоема
- в) у отдельно стоящего высокого дерева в поле
- г) в лесу под деревом

14. В солнечный полдень тень указывает направление на:

- а) юг
- б) север
- в) запад
- г) восток

15. Выберите из предложенных самый надежный способ обеззараживания воды.

- а) очистка через фильтр из песка и материи
- б) очистка через фильтр из камней, песка, травы, ваты и материи
- в) кипячение воды
- г) добавление в воду марганцовки

16. В ночное время направление на север указывает:

- а) Полярная Звезда
- б) полная Луна
- в) созвездие Большая Медведица
- г) планета Венера

17. Укажите ошибку в перечисленных назначениях костров:

- а) освещение
- б) отпугивание насекомых
- в) приготовление пищи
- г) обогрев участников похода

18. Как оказать первую помощь при ссадинах?

- а) обработать рану йодом или зеленкой, наложить повязку
- б) обработать рану одеколоном, наложить повязку
- в) обработать рану спиртом, наложить давящую повязку
- г) поврежденное место вокруг раны обработать йодом, ссадину промыть перекисью водорода, наложить повязку

19. Что необходимо сообщить, вызывая скорую помощь?

- а) указать точный адрес (название улицы, номер дома, квартиры), кратко рассказать, что и с кем произошло
- б) назвать адрес, и кто сообщил о случившемся
- в) назвать вид травмы и почему это произошло
- г) кратко рассказать, что произошло и какая оказана помощь

20. К важному виду ежедневного отдыха относится сон. Сколько часов в сутки человек должен отводить для сна?

- а) не менее 6 часов
- б) не менее 10 часов
- в) не менее 8 часов
- г) около 12 часов

ШКОЛЬНЫЙ ЭТАП ВСЕРОССИЙСКОЙ ОЛИМПИАДЫ ШКОЛЬНИКОВ
2024/2025 УЧЕБНОГО ГОДА
ПО ОСНОВАМ БЕЗОПАСНОСТИ И ЗАЩИТЫ РОДИНЫ

578.

Код/Шифр участника

--	--	--	--	--

Фамилия Битал

Имя Емий

Отчество Александрович

Дата рождения: « » 20 г.

Класс 8

МБОУ СОШ №

Личная подпись участника Битал


5-6 КЛАССЫ

Код/Шифр участника

--	--	--	--	--

МОДУЛЬ 1.

Задание 1. Знание правил дорожного движения всеми участниками дорожного движения позволяет предотвратить дорожно-транспортные происшествия. При помощи стрелок установите соответствие между сигналами велосипедиста и их названиями.



Поворот налево	Торможение	Поворот направо
----------------	------------	-----------------

Оценочные баллы: за каждый правильный ответ – 4 балла, максимальный – 20 баллов;
фактический – 16 баллов
Подписи членов жюри _____

Задание 2. Укажите стрелками, с помощью каких упражнений развиваются перечисленные физические качества:

Гибкость	Бег на лыжах, плавание, езда на велосипеде
Выносливость	Метания, бег на короткие дистанции
Быстрота	Наклоны, маховые движения, шпагаты
Сила	Подтягивание на перекладине, приседания
Ловкость	Жонглирование мячом, прыжки со скакалкой

Оценочные баллы: за каждый правильный ответ – 4 балла, максимальный – 20 баллов;
фактический – 4 баллов
Подписи членов жюри _____

Задание 3. Вставьте в текст «Правила работы за компьютером для школьника 11-13 лет» пропущенные определения:

В комнате, в которой школьник работает за компьютером должно быть _____ (А).

В соответствии с установленными нормами непрерывная продолжительность работы не должна превышать _____ (Б) минут.

После каждого продолжительного занятия на компьютере рекомендуется выполнять _____ (В).

Расположите клавиатуру и монитор прямо перед собой. При работе на клавиатуре установите ее так, чтобы не надо было далеко тянуться, а расстояние от глаз до монитора компьютера не превышало _____ (Г).

- 1) Хорошее освещение; 2) 40 сантиметров; 3) Гимнастика для рук; 4) 20 минут;
5) Полутемное освещение; 6) 60 сантиметров; 7) Гимнастика для глаз; 8) 30 минут;

А	Б	В	Г
15	80	75	65

Оценочные баллы: за каждый правильный ответ – 5 баллов, максимальный – 20 баллов;
фактический – 15 баллов

Подписи членов жюри _____

МОДУЛЬ 2.

ТЕСТОВЫЕ ЗАДАНИЯ

265.

В каждом задании один правильный ответ!

Правильный ответ – 2 балла.

1. Что необходимо использовать для тушения небольших очагов пожара в квартире?

- а) любые имеющиеся в квартире жидкости.
б) старые газеты.
в) веник. *2*
г) одеяло.

2. Что относится к наиболее вероятной причине возникновения пожара в квартире?

- а) игры детей со спичками, петардами, бенгальским огнем, зажигалками.
б) зажженные электрические лампочки, фонари. *2*
в) постоянно работающий холодильник.
г) отсутствие в квартире огнетушителя.

3. Находясь в кабине движущегося лифта, вы обнаружили признаки возгорания. Как вы поступите?

- а) немедленно нажмете кнопку «Стоп»
б) поднимете крик, шум, начнете звать на помощь *2*
в) немедленно нажмете кнопку «Вызов» и сообщите об этом диспетчеру, выйдете из лифта на ближайшем этаже
г) сядете на пол кабины лифта, где меньше дыма

4. Чем нельзя тушить загоревшийся компьютер?
- а) землей
 - б) водой
 - в) песком
 - г) пеной из огнетушителя

5. В каком случае можно переходить дорогу, не оборудованную пешеходным переходом?

- а) только при достаточной видимости в обе стороны и отсутствии в зоне видимости пешеходного перехода или перекрестка
- б) только при отсутствии ограждений и движущегося транспорта
- в) дорогу нельзя переходить вне пешеходного перехода
- г) когда нет близко идущего транспортного средства

6. По какой стороне улицы вы будете двигаться, ведя неисправный велосипед, если нет тротуара?

- а) против движения транспорта
- б) в попутном направлении движения транспорта по правой стороне дороги
- в) по левой стороне проезжей части
- г) нет никакой разницы

7. Вы вышли из автобуса. Нужно перейти на противоположную сторону улицы. Как правильно это сделать?

- а) обойти стоящий транспорт спереди
- б) обойти стоящий транспорт сзади
- в) подождать, когда транспорт отъедет от остановки, затем перейти дорогу
- г) дойти до ближайшего переходного перехода и перейти дорогу

8. Вы находитесь дома и слышите, что дверь вашей квартиры открывают ключом или взламывают. Ваши действия:

- а) попытаетесь бежать из дома через балкон к соседям
- б) спросите, кто там за дверью и откроете её
- в) заблокируете двери любыми средствами и вызовете полицию
- г) поднимите тревогу криками и шумом

9. Вы пришли домой и заметили, что в квартире кто-то побывал (открыта входная дверь, выбито окно, в квартире беспорядок и тому подобное). Как вы поступите?

- а) войдете в квартиру, проверите наличие вещей, и если все нормально, то займетесь личными делами
- б) войдете в квартиру, осмотрите её и установите, какие вещи исчезли, о чем сообщите в полицию
- в) войдете в квартиру и сразу по телефону вызовете полицию
- г) не будите входить в квартиру и вызовете полицию по телефону

10. Что нельзя делать, если вы оказались заложником террористов в транспорте?

- а) требовать немедленного освобождения, кричать
- б) не выделяться своим поведением
- в) беспрекословно выполнять требования террористов
- г) при штурме лечь на пол

11. Какой способ определения направления движения, является наиболее достоверным?

- а) с помощью солнца и часов
- б) по компасу
- в) по квартальным столбам
- г) по стволам деревьев и мху

12. Север на карте всегда находится...

- а) вверху
- б) слева
- в) справа
- г) внизу

13. Где наиболее безопасное место во время грозы?

- а) у железнодорожного полотна
- б) у водоема
- в) у отдельно стоящего высокого дерева в поле
- г) в лесу под деревом

14. В солнечный полдень тень указывает направление на:

- а) юг
- б) север
- в) запад
- г) восток

15. Выберите из предложенных самый надежный способ обеззараживания воды.

- а) очистка через фильтр из песка и материи
- б) очистка через фильтр из камней, песка, травы, ваты и материи
- в) кипячение воды
- г) добавление в воду марганцовки

16. В ночное время направление на север указывает:

- а) Полярная Звезда
- б) полная Луна
- в) созвездие Большая Медведица
- г) планета Венера

17. Укажите ошибку в перечисленных назначениях костров:

- а) освещение
- б) отпугивание насекомых
- в) приготовление пищи
- г) обогрев участников похода

18. Как оказать первую помощь при ссадинах?

- а) обработать рану йодом или зеленкой, наложить повязку
- б) обработать рану одеколоном, наложить повязку
- в) обработать рану спиртом, наложить давящую повязку
- г) поврежденное место вокруг раны обработать йодом, ссадину промыть перекисью водорода, наложить повязку

19. Что необходимо сообщить, вызывая скорую помощь?

- а) указать точный адрес (название улицы, номер дома, квартиры), кратко рассказать, что и с кем произошло
- б) назвать адрес, и кто сообщил о случившемся
- в) назвать вид травмы и почему это произошло
- г) кратко рассказать, что произошло и какая оказана помощь

20. К важному виду ежедневного отдыха относится сон. Сколько часов в сутки человек должен отводить для сна?

- а) не менее 6 часов
- б) не менее 10 часов
- в) не менее 8 часов
- г) около 12 часов

ШКОЛЬНЫЙ ЭТАП ВСЕРОССИЙСКОЙ ОЛИМПИАДЫ ШКОЛЬНИКОВ
2024/2025 УЧЕБНОГО ГОДА
ПО ОСНОВАМ БЕЗОПАСНОСТИ И ЗАЩИТЫ РОДИНЫ

588.

Код/Шифр участника

--	--	--	--	--

Фамилия Андриашева

Имя Дарья

Отчество Александровна

Дата рождения: « 21 » февраля 20 12 г.

Класс 6 Г

МБОУ СОШ № с. Ва - Александровское

Личная подпись участника 


5-6 КЛАССЫ

Код/Шифр участника

--	--	--	--	--

МОДУЛЬ 1.

Задание 1. Знание правил дорожного движения всеми участниками дорожного движения позволяет предотвратить дорожно-транспортные происшествия. При помощи стрелок установите соответствие между сигналами велосипедиста и их названиями.



4	0	4
Поворот налево	Торможение	Поворот направо

Оценочные баллы: за каждый правильный ответ – 4 балла, максимальный – 20 баллов;
фактический – 8 баллов

Подписи членов жюри _____

Задание 2. Укажите стрелками, с помощью каких упражнений развиваются перечисленные физические качества:

Гибкость	4		Бег на лыжах, плавание, езда на велосипеде
Выносливость	4	X	Метания, бег на короткие дистанции
Быстрота	4	X	Наклоны, маховые движения, шпагаты
Сила	0	X	Подтягивание на перекладине, приседания
Ловкость	0	X	Жонглирование мячом, прыжки со скакалкой

Оценочные баллы: за каждый правильный ответ – 4 балла, максимальный – 20 баллов;
фактический – 16 баллов

Подписи членов жюри _____

Задание 3. Вставьте в текст «Правила работы за компьютером для школьников 11-13 лет» пропущенные определения:

В комнате, в которой школьник работает за компьютером должно быть _____ (А).

В соответствии с установленными нормами непрерывная продолжительность работы не должна превышать _____ (Б) минут.

После каждого продолжительного занятия на компьютере рекомендуется выполнять _____ (В).

Расположите клавиатуру и монитор прямо перед собой. При работе на клавиатуре установите ее так, чтобы не надо было далеко тянуться, а расстояние от глаз до монитора компьютера не превышало _____ (Г).

- 1) Хорошее освещение; 2) 40 сантиметров; 3) Гимнастика для рук; 4) 20 минут;
5) Полутемное освещение; 6) 60 сантиметров; 7) Гимнастика для глаз; 8) 30 минут;

А	Б	В	Г
1 5	8 0	7 5	2 0

Оценочные баллы: за каждый правильный ответ – 5 баллов, максимальный – 20 баллов; фактический – 10 баллов

Подписи членов жюри _____

МОДУЛЬ 2.

ТЕСТОВЫЕ ЗАДАНИЯ

В каждом задании один правильный ответ! 288

Правильный ответ – 2 балла.

1. Что необходимо использовать для тушения небольших очагов пожара в квартире?

- а) любые имеющиеся в квартире жидкости.
б) старые газеты. 0
в) веник.
г) одеяло.

2. Что относится к наиболее вероятной причине возникновения пожара в квартире?

- а) игры детей со спичками, петардами, бенгальским огнем, зажигалками.
б) зажженные электрические лампочки, фонари. 2
в) постоянно работающий холодильник.
г) отсутствие в квартире огнетушителя.

3. Находясь в кабине движущегося лифта, вы обнаружили признаки возгорания. Как вы поступите?

- а) немедленно нажмете кнопку «Стоп»
б) поднимете крик, шум, начнете звать на помощь 2
в) немедленно нажмете кнопку «Вызов» и сообщите об этом диспетчеру, выйдете из лифта на ближайшем этаже
г) сядете на пол кабины лифта, где меньше дыма

4. Чем нельзя тушить загоревшийся компьютер?

- a) землей
- б) водой
- в) песком
- г) пеной из огнетушителя

5. В каком случае можно переходить дорогу, не оборудованную пешеходным переходом?

- а) только при достаточной видимости в обе стороны и отсутствии в зоне видимости пешеходного перехода или перекрестка
- б) только при отсутствии ограждений и движущегося транспорта
- в) дорогу нельзя переходить вне пешеходного перехода
- г) когда нет близко идущего транспортного средства

6. По какой стороне улицы вы будете двигаться, ведя неисправный велосипед, если нет тротуара?

- а) против движения транспорта
- б) в попутном направлении движения транспорта по правой стороне дороги
- в) по левой стороне проезжей части
- г) нет никакой разницы

7. Вы вышли из автобуса. Нужно перейти на противоположную сторону улицы. Как правильно это сделать?

- а) обойти стоящий транспорт спереди
- б) обойти стоящий транспорт сзади
- в) подождать, когда транспорт отъедет от остановки, затем перейти дорогу
- г) дойти до ближайшего переходного перехода и перейти дорогу

8. Вы находитесь дома и слышите, что дверь вашей квартиры открывают ключом или взламывают. Ваши действия:

- а) попытаетесь бежать из дома через балкон к соседям
- б) спросите, кто там за дверью и откроете её
- в) заблокируете двери любыми средствами и вызовете полицию
- г) поднимите тревогу криками и шумом

9. Вы пришли домой и заметили, что в квартире кто-то побывал (открыта входная дверь, выбито окно, в квартире беспорядок и тому подобное). Как вы поступите?

- а) войдете в квартиру, проверите наличие вещей, и если все нормально, то займетесь личными делами
- б) войдете в квартиру, осмотрите её и установите, какие вещи исчезли, о чем сообщите в полицию
- в) войдете в квартиру и сразу по телефону вызовете полицию
- г) не будете входить в квартиру и вызовете полицию по телефону

10. Что нельзя делать, если вы оказались заложником террористов в транспорте?

- а) требовать немедленного освобождения, кричать
- б) не выделяться своим поведением
- в) беспрекословно выполнять требования террористов
- г) при штурме лечь на пол

11. Какой способ определения направления движения, является наиболее достоверным?

- а) с помощью солнца и часов
- б) по компасу
- в) по квартальным столбам
- г) по стволам деревьев и мху

12. Север на карте всегда находится...

- а) вверху
- б) слева
- в) справа
- г) внизу

13. Где наиболее безопасное место во время грозы?

- а) у железнодорожного полотна
- б) у водоема
- в) у отдельно стоящего высокого дерева в поле
- г) в лесу под деревом

14. В солнечный полдень тень указывает направление на:

- а) юг
- б) север
- в) запад
- г) восток

15. Выберите из предложенных самый надежный способ обеззараживания воды.

- а) очистка через фильтр из песка и материи
- б) очистка через фильтр из камней, песка, травы, ваты и материи
- в) кипячение воды
- г) добавление в воду марганцовки

16. В ночное время направление на север указывает:

- а) Полярная Звезда
- б) полная Луна
- в) созвездие Большая Медведица
- г) планета Венера

17. Укажите ошибку в перечисленных назначениях костров:

- а) освещение
- б) отпугивание насекомых
- в) приготовление пищи
- г) обогрев участников похода

18. Как оказать первую помощь при ссадинах?

- а) обработать рану йодом или зеленкой, наложить повязку
- б) обработать рану одеколоном, наложить повязку
- в) обработать рану спиртом, наложить давящую повязку
- г) поврежденное место вокруг раны обработать йодом, ссадину промыть перекисью водорода, наложить повязку

19. Что необходимо сообщить, вызывая скорую помощь?

- а) указать точный адрес (название улицы, номер дома, квартиры), кратко рассказать, что и с кем произошло
- б) назвать адрес, и кто сообщил о случившемся
- в) назвать вид травмы и почему это произошло
- г) кратко рассказать, что произошло и какая оказана помощь

20. К важному виду ежедневного отдыха относится сон. Сколько часов в сутки человек должен отводить для сна?

- а) не менее 6 часов
- б) не менее 10 часов
- в) не менее 8 часов
- г) около 12 часов